

Prénom : \_\_\_\_\_

## Bien manger pour mieux plonger

Dans un camp de vacances, plusieurs collations sont servies aux plongeurs durant la journée.

Madame Petipois, responsable des achats de nourriture pour le camp, est très occupée et a besoin d'aide. Remplis le bon de commande et calcule le coût total à l'aide de la liste de prix de l'épicerie.

Voici les aliments dont elle a besoin :

180 bouteilles de jus de fruits

720 sacs de noix mélangées

125 sachets de fruits séchés

5 caisses de pommes

---

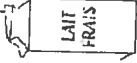




### Liste de prix de l'épicerie

Produit	Emballage	Prix (\$)
Jus de fruits	Caisse de 12 bouteilles	14,28 \$
Noix mélangées	Boîte de 36 sacs	35,64 \$
Fruits séchés	Sachet	0,45 \$
Pommes	Caisse	9,43 \$

Bon de commande			
Produit	Quantité	Prix (\$)	Coût (\$)
Jus de fruits	Caisses : _____		
Noix mélangées	Boîtes : _____		
Fruits séchés	Sachet : _____		
Pommes	Caisses : _____		
Coût total			

Des journalistes ont fait le tour de 3 supermarchés. Puis ils ont comparé les prix des produits biologiques à leurs équivalents ordinaires. Voici les achats pour une semaine d'une famille de quatre personnes : deux adultes et deux adolescents.

Quelle est la différence entre le coût d'un panier bio et celui d'un panier ordinaire?

Catégorie	Bio	Ordinaire
Produits laitiers 	23,01 \$	20,85 \$
Viandes et substituts 	51,70 \$	51,70 \$
Fruits et légumes 	88,13 \$	55,91 \$
Pain et céréales 	15,63 \$	16,73 \$
Autres produits 	59,27 \$	30,79 \$