
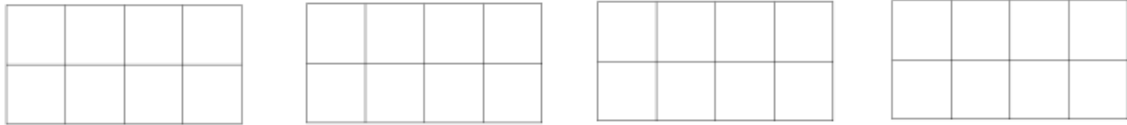


La fraction

du jour



REPRÉSENTE LA FRACTION




INSCRIS LE BON SIGNE (<, > ou =)

$$\frac{1}{16}$$

$$\frac{4}{16}$$

TROUVE DEUX FRACTIONS ÉQUIVALENTES

PLACE EN ORDRE CROISSANT LES FRACTIONS



Arnaud et ses 3 amis participent à une course à relais de 1200m. Arnaud fait $\frac{4}{16}$ de la course, Rémi fait le $\frac{1}{2}$, Polo court le $\frac{3}{16}$ et Sophia fait le reste de la course. Combien de mètres chacun des participants ont-ils parcourus?

Arnaud	
Rémi	
Polo	
Sophia	