

FRACTIONS

à déguster



Document original de Mélanie Quevillon

Jardin de Vicky

CORRIGE


1 5/15 ou 1/3	2 melon d'eau	3 6	4 16
5 sel	6 16/28 ou 4/7	7 6	8 8
9 9	10 15	11 champignon	12 7/8

Document original de Mélanie Quevillon

Jardin de Vicky

1


Quelle fraction représentent les biscuits ?



Jardin de Vicky

2


Quel fruit représente le quart ?



Jardin de Vicky


3

Trouve le nombre de Fromage qui représente les $\frac{2}{5}$?




4

Trouve le nombre de tranches de bacon qui représente les $\frac{4}{6}$?




5

Est-ce le sel ou le poivre qui représente une fraction équivalente à $\frac{3}{4}$?



6

Quelle fraction représentent les oeufs ?



7

Si les $\frac{2}{3}$ des macaronis sont cuits, quelle fraction représente les macaronis qui ne sont pas cuits ?




8

Si ces 4 biscuits représentent $\frac{1}{2}$, combien de biscuits représentent le tout ?



9

Les $\frac{3}{8}$ des saucisses sont piquantes. Combien de saucisses ne sont pas piquantes ?




10

Ces 6 beignes représentent $\frac{2}{3}$. Combien de beignes composent un entier ?



11

Quel légume représente $\frac{2}{8}$?



12

Quelle fraction représentent les hamburgers ?

